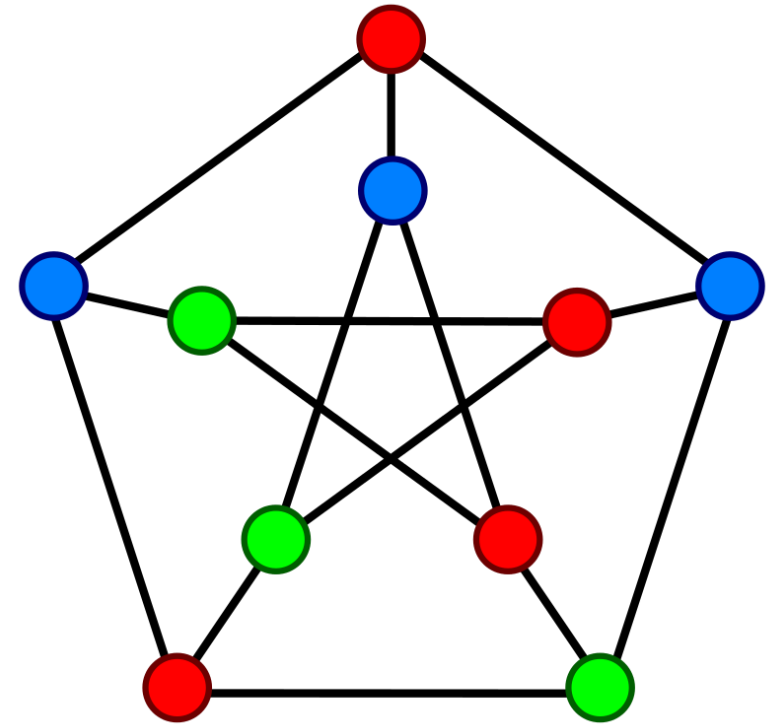


# Graf (Bag.2)

Bahan Kuliah  
IF2120 Matematika Diskrit



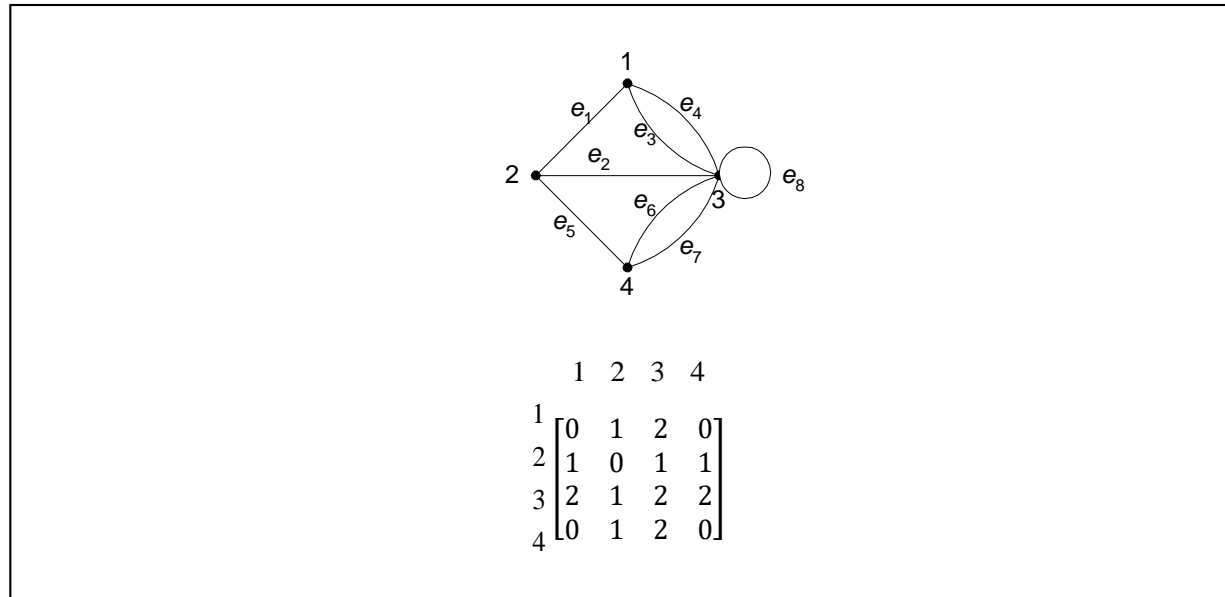
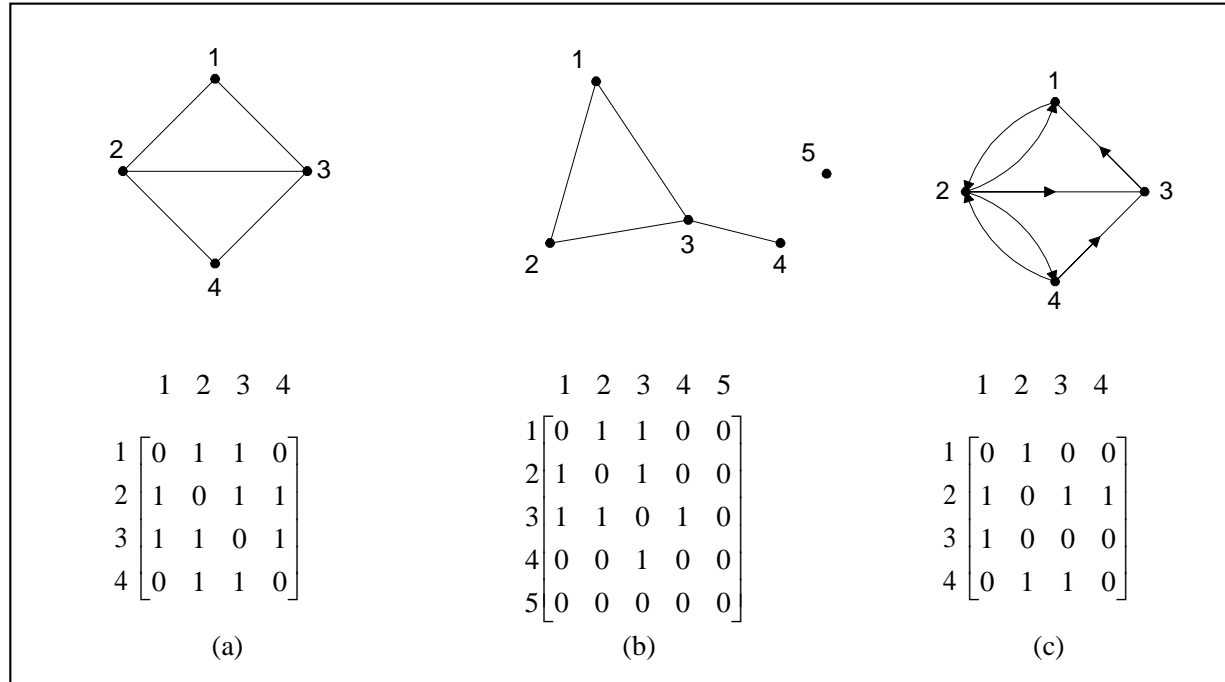
Program Studi Teknik Informatika  
STEI-ITB

# Representasi Graf

## 1. Matriks Ketetanggaan (*adjacency matrix*)

$$A = [a_{ij}],$$
$$a_{ij} = \begin{cases} 1, & \text{jika simpul } i \text{ dan } j \text{ bertetangga} \\ 0, & \text{jika simpul } i \text{ dan } j \text{ tidak bertetangga} \end{cases}$$

Contoh:



Derajat tiap simpul  $i$ :

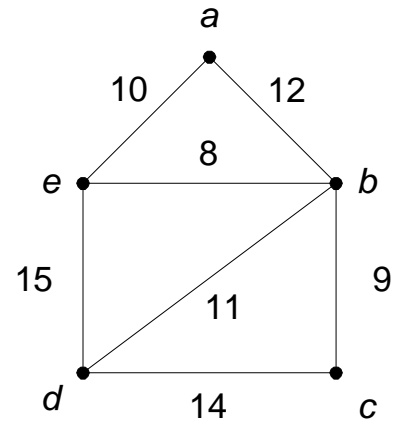
(a) Untuk graf tak-berarah

$$d(v_i) = \sum_{j=1}^n a_{ij}$$

(b) Untuk graf berarah,

$$d_{in}(v_j) = \text{jumlah nilai pada kolom } j = \sum_{i=1}^n a_{ij}$$

$$d_{out}(v_i) = \text{jumlah nilai pada baris } i = \sum_{j=1}^n a_{ij}$$

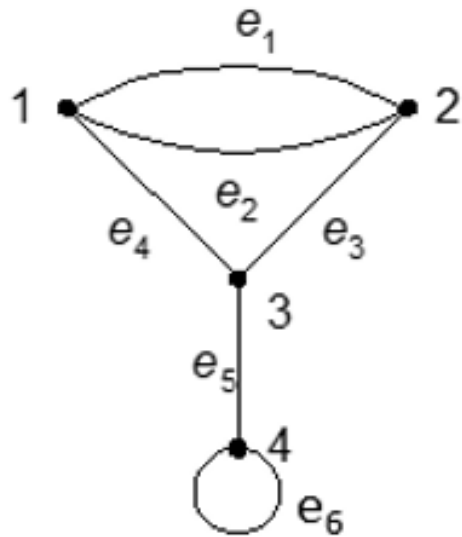


	<i>a</i>	<i>b</i>	<i>c</i>	<i>d</i>	<i>e</i>
<i>a</i>	$\infty$	12	$\infty$	$\infty$	10
<i>b</i>	12	$\infty$	9	11	8
<i>c</i>	$\infty$	9	$\infty$	14	$\infty$
<i>d</i>	$\infty$	11	14	$\infty$	15
<i>e</i>	10	8	$\infty$	15	$\infty$

## 2. Matriks Bersisian (*incidency matrix*)

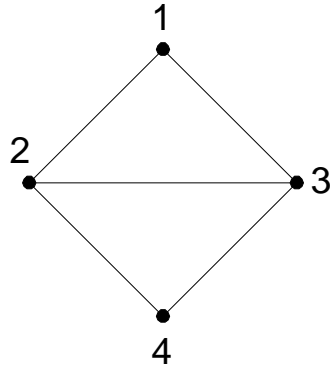
$$A = [a_{ij}],$$

$$a_{ij} = \begin{cases} 1, & \text{jika simpul } i \text{ bersisian dengan sisi } j \\ 0, & \text{jika simpul } i \text{ tidak bersisian dengan sisi } j \end{cases}$$



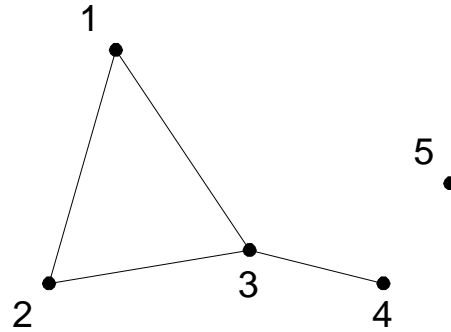
	e1	e2	e3	e4	e5	e6
1	1	1	0	1	0	0
2	1	1	1	0	0	0
3	0	0	1	1	1	0
4	0	0	0	0	1	1

### 3. Senarai Ketetanggaan (*adjacency list*)



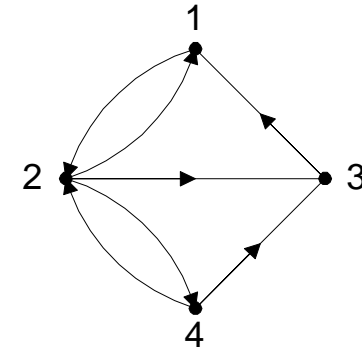
Simpul	Simpul Tetangga
1	2, 3
2	1, 3, 4
3	1, 2, 4
4	2, 3

(a)



Simpul	Simpul Tetangga
1	2, 3
2	1, 3
3	1, 2, 4
4	3
5	-

(b)



Simpul	Simpul Terminal
1	2
2	1, 3, 4
3	1
4	2, 3

(c)

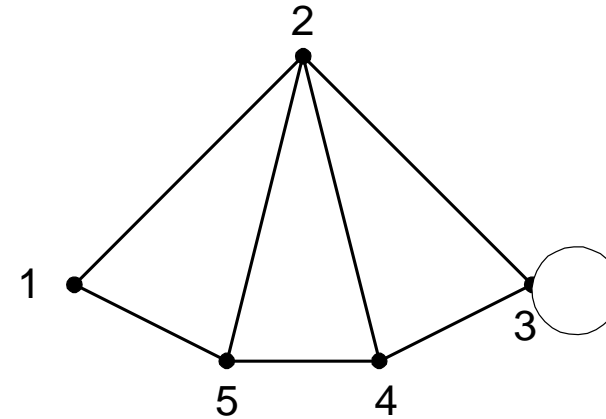
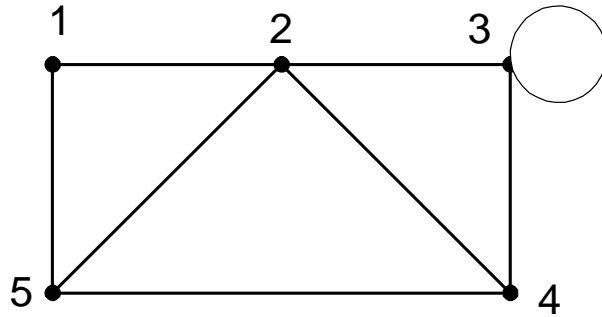
# Graf Isomorfik

- Diketahui matriks ketetanggaan (*adjacency matrices*) dari sebuah graf tidak berarah. Gambarkan dua buah graf yang bersesuaian dengan matriks tersebut.

$$\begin{bmatrix} 0 & 1 & 0 & 0 & 1 \\ 1 & 0 & 1 & 1 & 1 \\ 0 & 1 & 1 & 1 & 0 \\ 0 & 1 & 1 & 0 & 1 \\ 1 & 1 & 0 & 1 & 0 \end{bmatrix}$$



- Jawaban:

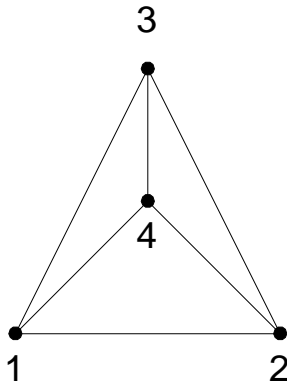


- Dua buah graf yang sama (hanya penggambaran secara geometri berbeda)

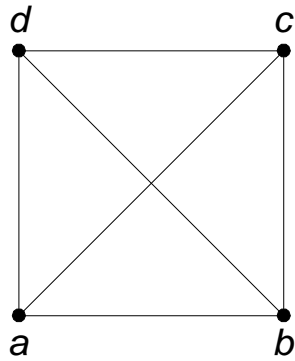
→ **isomorfik!**

# Graf Isomorfik


- Dua buah graf yang sama tetapi secara geometri berbeda disebut graf yang saling **isomorfik**.
- Dua buah graf,  $G_1$  dan  $G_2$  dikatakan isomorfik jika terdapat korespondensi satu-satu antara simpul-simpul keduanya dan antara sisi-sisi keduanya sedemikian sehingga hubungan kebersisian tetap terjaga.
- Dengan kata lain, misalkan sisi  $e$  bersisian dengan simpul  $u$  dan  $v$  di  $G_1$ , maka sisi  $e'$  yang berkoresponden di  $G_2$  harus bersisian dengan simpul  $u'$  dan  $v'$  yang di  $G_2$ .
- Dua buah graf yang isomorfik adalah graf yang sama, kecuali penamaan simpul dan sisinya saja yang berbeda. Ini benar karena sebuah graf dapat digambarkan dalam banyak cara.



(a)  $G_1$

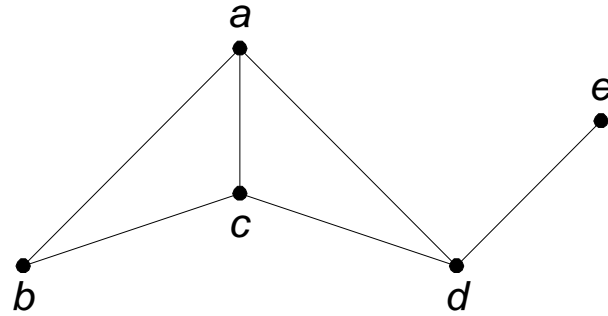


(b)  $G_2$

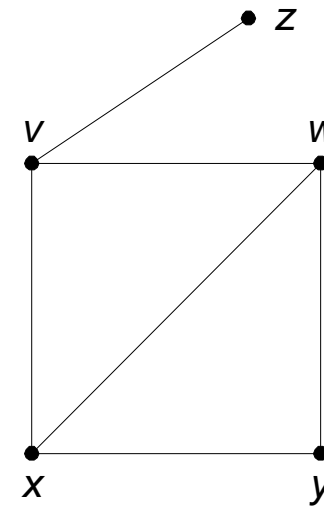


(c)  $G_3$

**Gambar**  $G_1$  isomorfik dengan  $G_2$ , tetapi  $G_1$  tidak isomorfik dengan  $G_3$



(a)  $G_1$

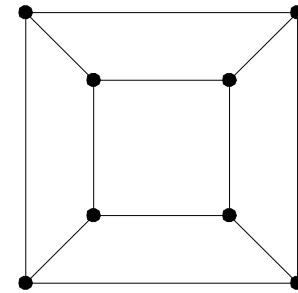
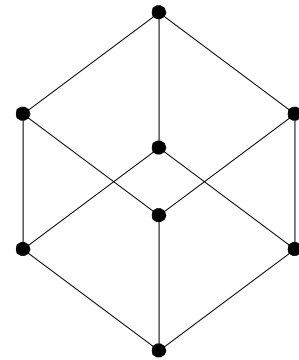


(b)  $G_2$

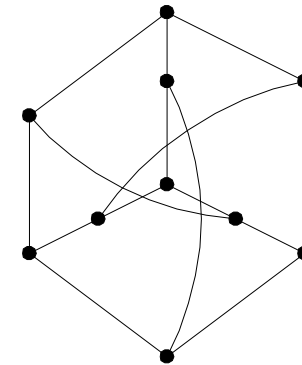
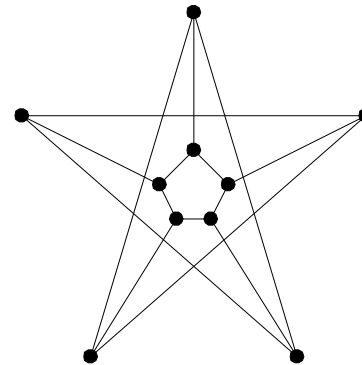
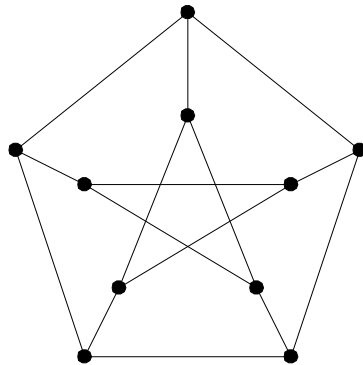
**Gambar** Graf (a) dan graf (b) isomorfik [DEO74]

$$A_{G_1} = \begin{matrix} & a & b & c & d & e \\ \begin{matrix} a \\ b \\ c \\ d \\ e \end{matrix} & \begin{bmatrix} 0 & 1 & 1 & 1 & 0 \\ 1 & 0 & 1 & 0 & 0 \\ 1 & 1 & 0 & 1 & 0 \\ 1 & 0 & 1 & 0 & 1 \\ 0 & 0 & 0 & 1 & 0 \end{bmatrix} \end{matrix}$$

$$A_{G_2} = \begin{matrix} & x & y & w & v & z \\ \begin{matrix} x \\ y \\ w \\ v \\ z \end{matrix} & \begin{bmatrix} 0 & 1 & 1 & 1 & 0 \\ 1 & 0 & 1 & 0 & 0 \\ 1 & 1 & 0 & 1 & 0 \\ 1 & 0 & 1 & 0 & 1 \\ 0 & 0 & 0 & 1 & 0 \end{bmatrix} \end{matrix}$$



(a)



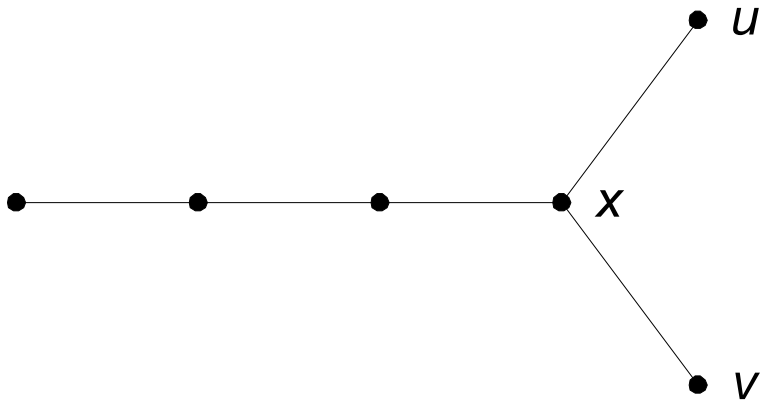
(b)

**Gambar** (a) Dua buah graf isomorfik, (b) tiga buah graf isomorfik

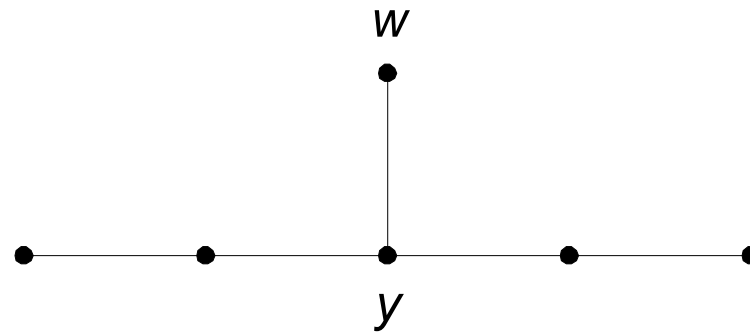
Dari definisi graf isomorfik dapat dikemukakan bahwa dua buah graf isomorfik memenuhi ketiga syarat berikut [DEO74]:

1. Mempunyai jumlah simpul yang sama.
2. Mempunyai jumlah sisi yang sama
3. Mempunyai jumlah simpul yang sama berderajat tertentu

Namun, ketiga syarat ini ternyata belum cukup menjamin. Pemeriksaan secara visual perlu dilakukan, seperti contoh dua buah graf di bawah ini:



Simpul  $x$  bertetangga dengan  $u$  dan  $v$  yang masing-masing berderajat 1

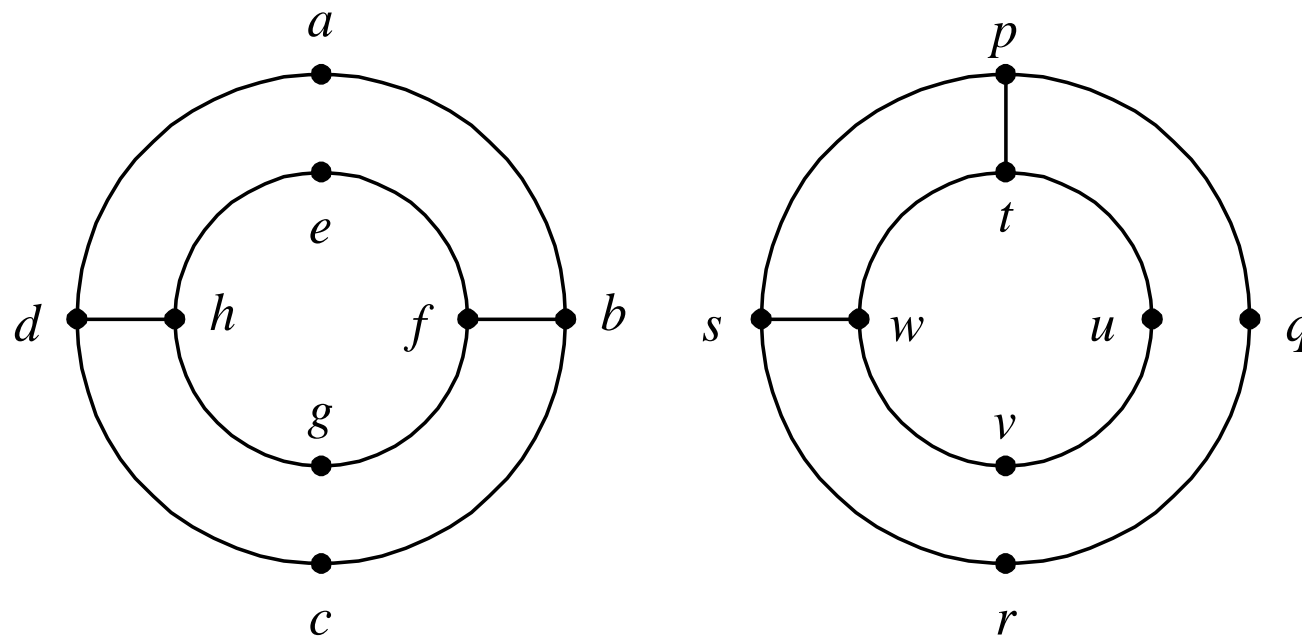


Simpul  $y$  bertetangga dengan hanya satu simpul berderajat 1

**Kesimpulan: kedua graf tidak isomorfik**

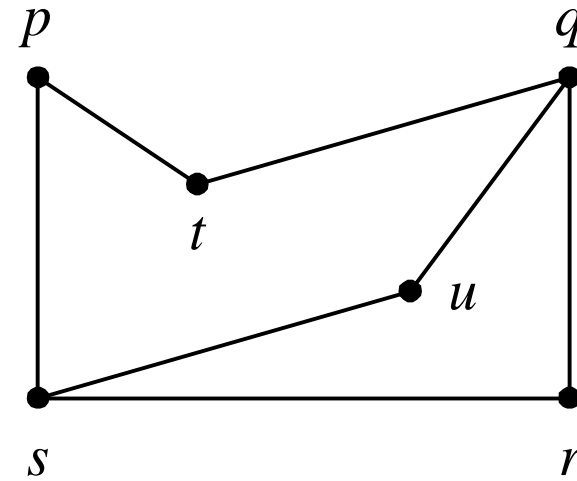
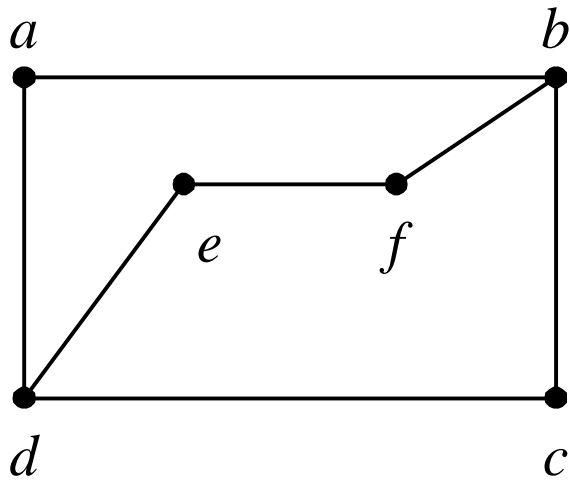
# Latihan

- Apakah pasangan graf di bawah ini isomorfik?



# Latihan

- Apakah pasangan graf di bawah ini isomorfik?

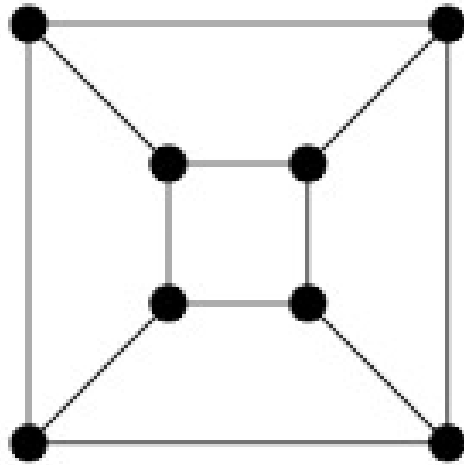




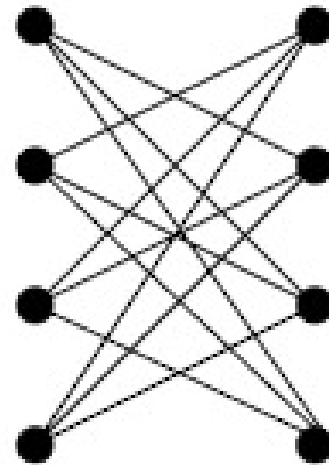
# Latihan

- Gambarkan 2 buah graf yang isomorfik dengan graf teratur berderajat 3 yang mempunyai 8 buah simpul

- Jawaban: (contoh dua kemungkinan gambar grafnya)



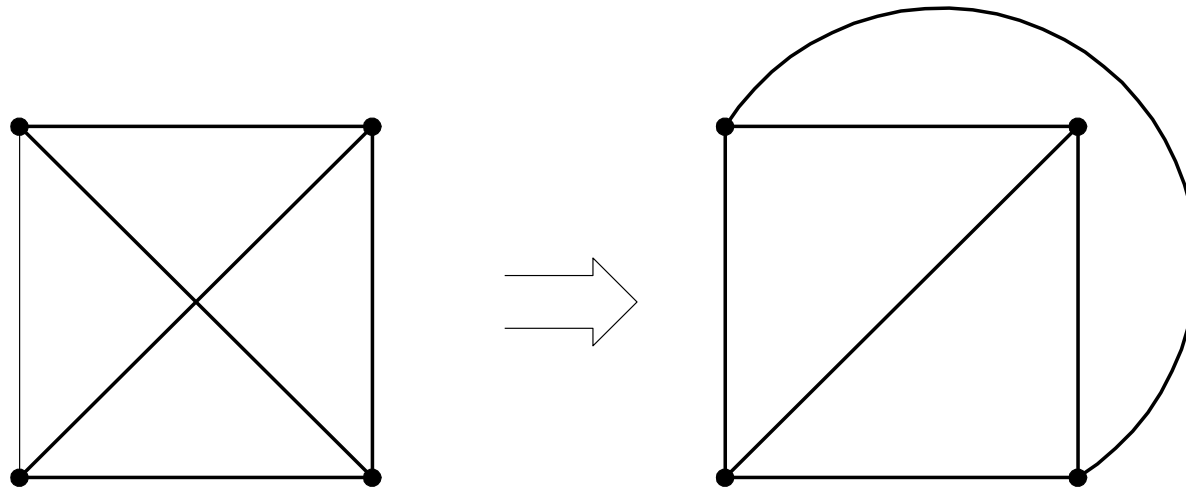
$G_1$



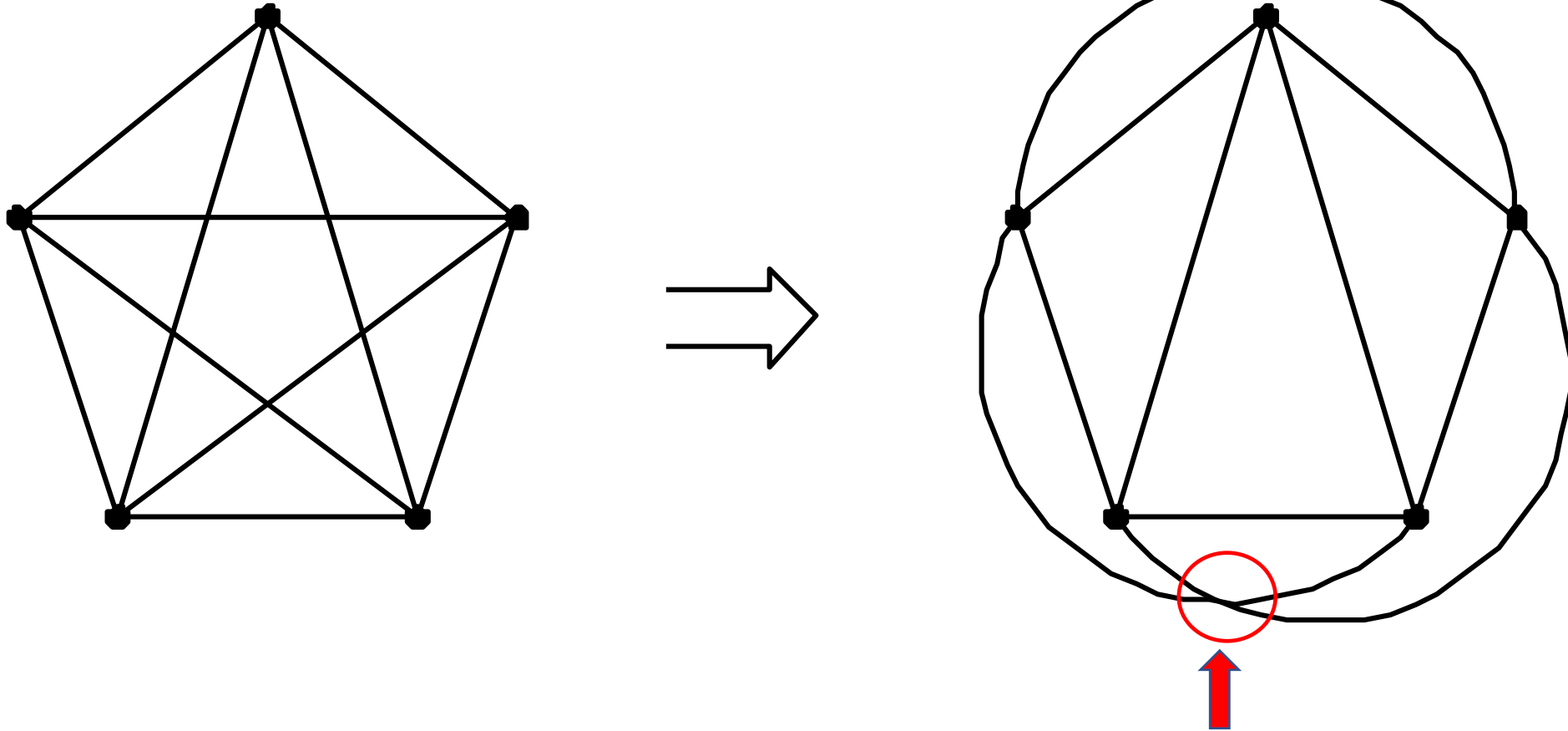
$G_2$

# Graf Planar (*Planar Graph*) dan Graf Bidang (*Plane Graph*)

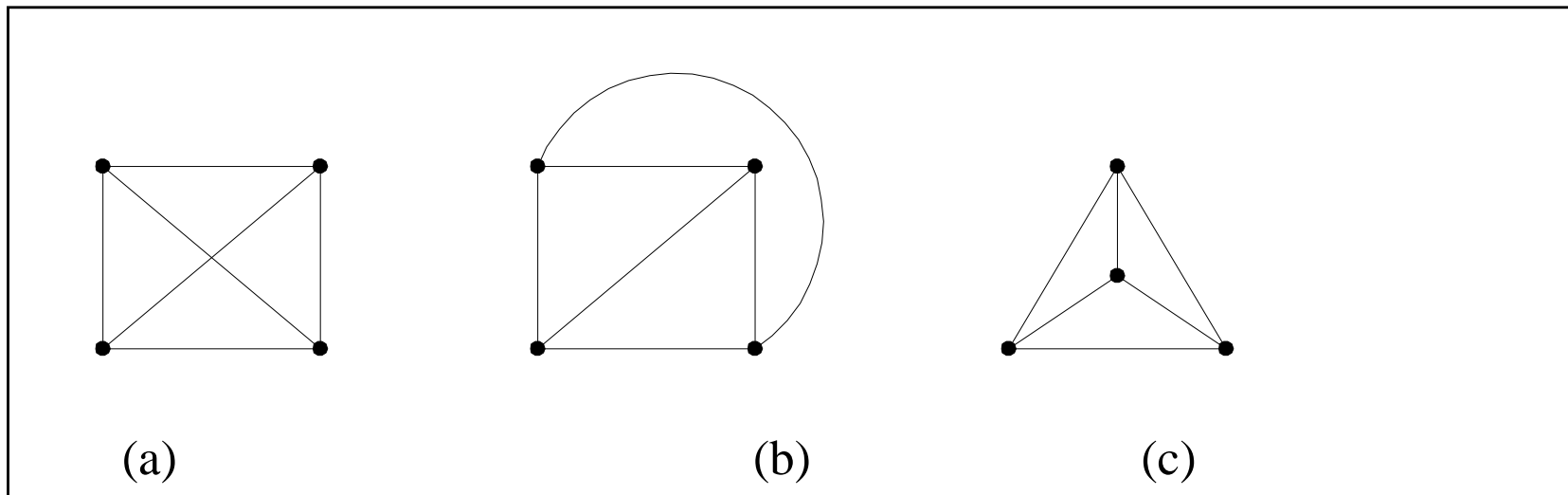
- Graf yang dapat digambarkan pada bidang datar dengan sisi-sisi tidak saling memotong (bersilangan) disebut **graf planar**,
- jika tidak, maka ia disebut **graf tak-planar**.
- Contoh:  $K_4$  di bawah ini adalah graf planar:



- $K_5$  adalah graf tidak planar:



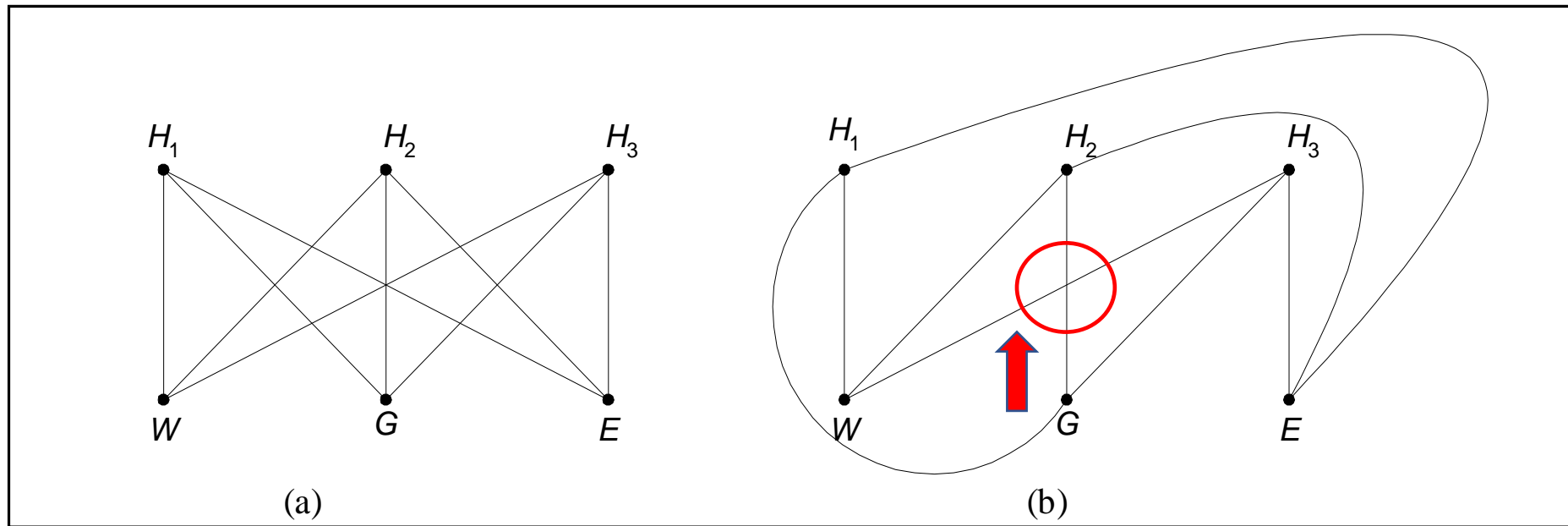
Graf planar yang digambarkan dengan sisi-sisi yang tidak saling berpotongan disebut **graf bidang** (*plane graph*).



Tiga buah graf planar. Graf (b) dan (c) adalah graf bidang

# Aplikasi Graf Planar

## Persoalan utilitas (*utility problem*)



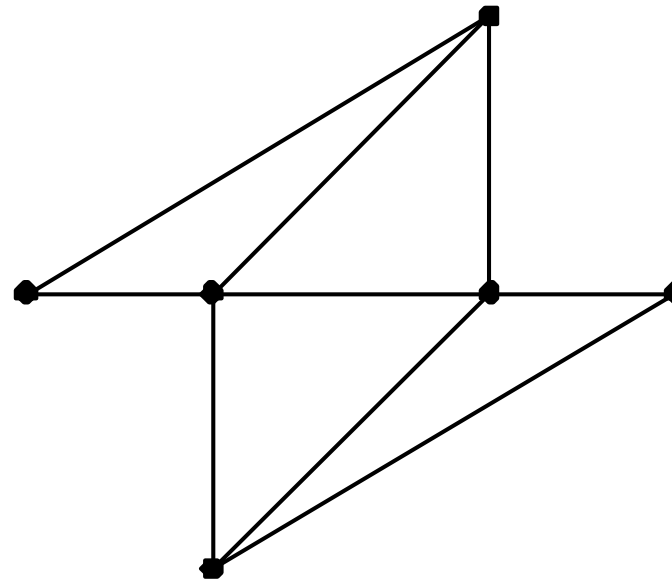
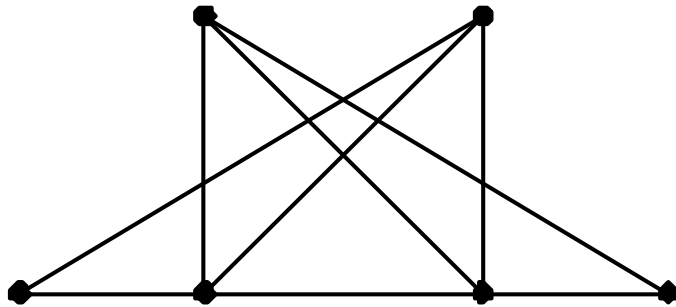
(a) Graf persoalan utilitas ( $K_{3,3}$ ), (b) graf persoalan utilitas bukan graf planar.

# Aplikasi Graf Planar

- Perancangan IC (*Integrated Circuit*)
- Tidak boleh ada kawat-kawat di dalam *IC-board* yang saling bersilangan → dapat menimbulkan interferensi arus listrik → *malfunction*
- Perancangan kawat memenuhi prinsip graf planar

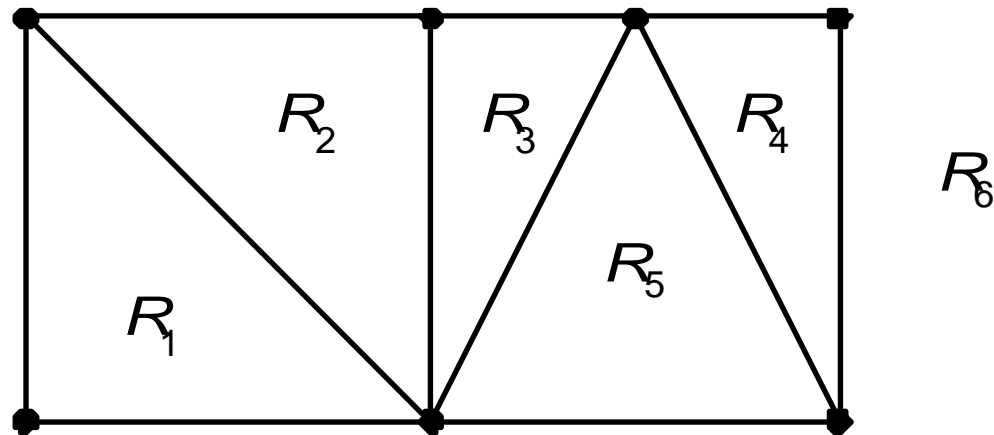
# Latihan

- Gambarkan graf (kiri) di bawah ini sehingga tidak ada sisi-sisi yang berpotongan (menjadi graf bidang). (Solusi: graf kanan)



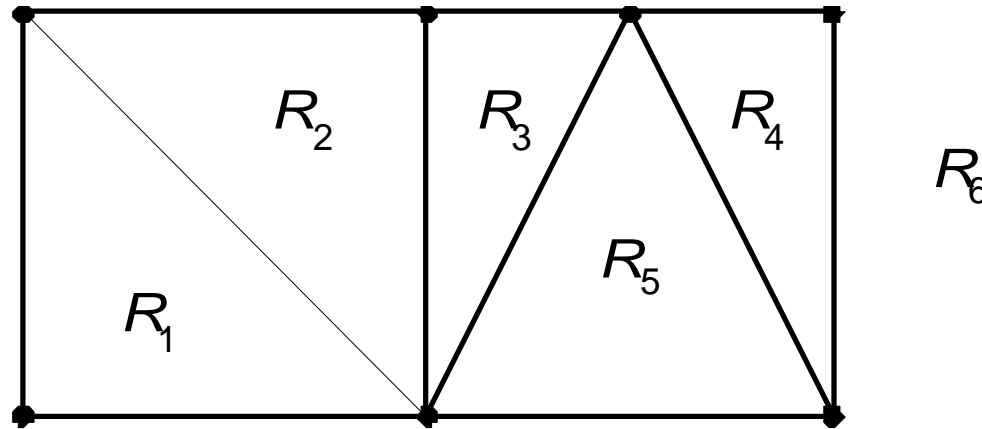


- Sisi-sisi pada graf bidang membagi bidang datar menjadi beberapa wilayah (*region*) atau muka (*face*).
- Graf bidang pada gambar di bawah initerdiri atas 6 wilayah (termasuk wilayah terluar):



- Hubungan antara jumlah simpul ( $n$ ), jumlah sisi ( $e$ ), dan jumlah wilayah ( $f$ ) pada graf bidang:

$$n - e + f = 2 \quad (\text{Rumus Euler})$$



- Pada Gambar di atas,  $e = 11$  dan  $n = 7, f = 6$ , maka  $7 - 11 + 6 = 2$ .

# Latihan

- Misalkan graf sederhana planar memiliki 24 buah simpul, masing-masing simpul berderajat 4. Representasi planar dari graf tersebut membagi bidang datar menjadi sejumlah wilayah atau muka. Berapa banyak wilayah yang terbentuk?

# Jawaban:

Diketahui  $n =$  jumlah simpul  $= 24$ , maka jumlah derajat seluruh simpul  $= 24 \times 4 = 96$ .

Menurut *lemma* jabat tangan,

$$\text{jumlah derajat} = 2 \times \text{jumlah sisi},$$

sehingga

$$\text{jumlah sisi} = e = \text{jumlah derajat}/2 = 96/2 = 48$$

Dari rumus Euler,  $n - e + f = 2$ , sehingga

$$f = 2 - n + e = 2 - 24 + 48 = 26 \text{ buah.}$$

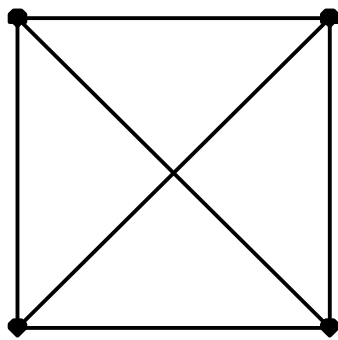
- Pada graf planar sederhana terhubung dengan  $f$  buah wilayah,  $n$  buah simpul, dan  $e$  buah sisi ( $e > 2$ ) selalu berlaku:

$$e \leq 3n - 6$$

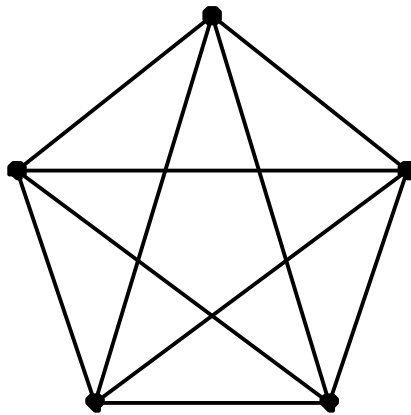
- Ketidaksamaan yang terakhir dinamakan **ketidaksamaan Euler**,
- Ketidaksamaan ini dapat digunakan untuk menunjukkan keplanaran suatu graf sederhana
- Jika sebuah graf planar, maka ia memenuhi ketidaksamaan Euler, sebaliknya jika tidak planar maka ketidaksamaan tersebut tidak dipenuhi.

- Contoh: Pada  $K_4$ ,  $n = 4$ ,  $e = 6$ , memenuhi ketidaksamaan Euler, sebab  $6 \leq 3(4) - 6$ . Jadi,  $K_4$  adalah graf planar.

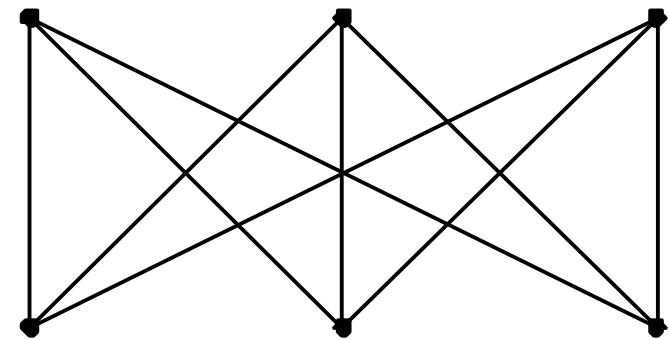
Pada graf  $K_5$ ,  $n = 5$  dan  $e = 10$ , tidak memenuhi ketidaksamaan Euler sebab  $10 \geq 3(5) - 6$ . Jadi,  $K_5$  tidak planar



$K_4$



$K_5$



$K_{3,3}$

Ketidaksamaan  $e \leq 3n - 6$  tidak berlaku untuk  $K_{3,3}$  karena

$$e = 9, n = 6$$

$$9 \leq (3)(6) - 6 = 12 \text{ (jadi, } e \leq 3n - 6)$$

padahal graf  $K_{3,3}$  bukan graf planar!

Buat asumsi baru: setiap daerah pada graf planar dibatasi oleh paling sedikit empat buah sisi,

Dari penurunan rumus diperoleh

$$e \leq 2n - 4$$

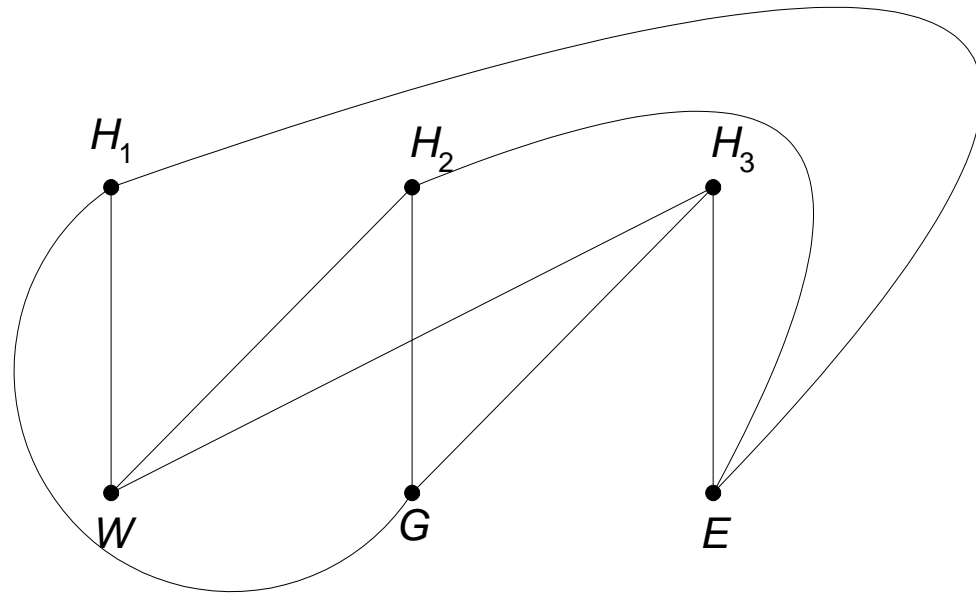
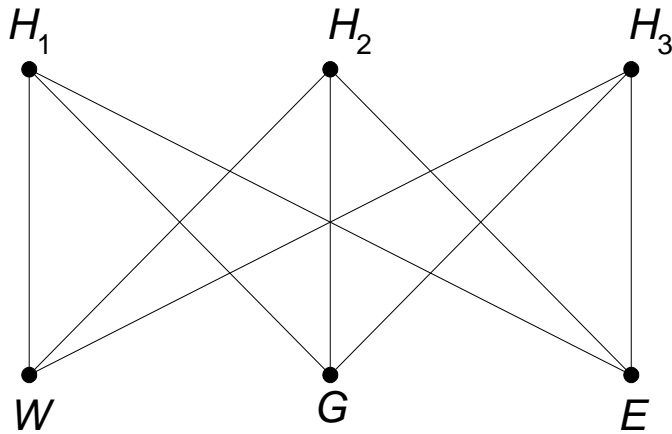
**Contoh** Graf  $K_{3,3}$  pada Gambar di bawah memenuhi ketidaksamaan  $e \leq 2n - 4$ , karena

$$e = 9, n = 6$$

$$9 \leq (2)(6) - 4 = 8$$

(salah)

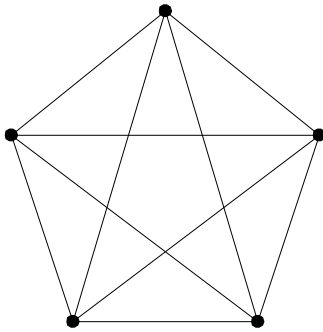
yang berarti  $K_{3,3}$  bukan graf planar.



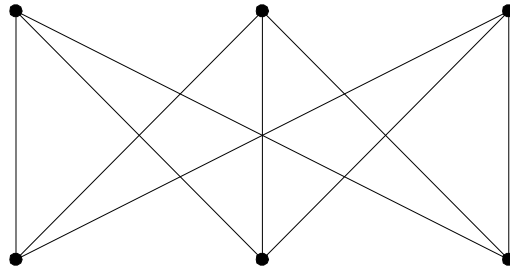


# Teorema Kuratowski

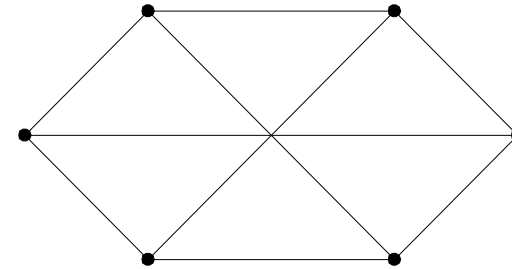
Berguna untuk menentukan dengan tegas keplanaran suatu graf.



(a)



(b)

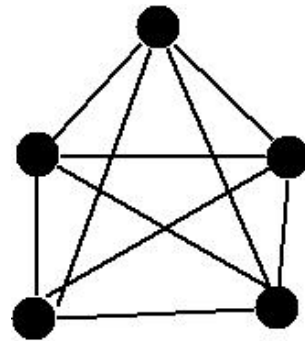


(c)

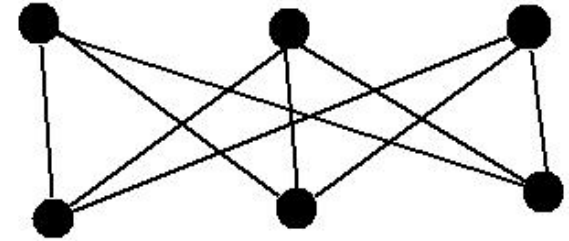
- Gambar**
- (a) Graf Kuratowski pertama ( $K_5$ )
  - (b) Graf Kuratowski kedua ( $K_{3,3}$ )
  - (c) Graf yang isomorfik dengan graf Kuratowski kedua



**Kazimierz Kuratowski** (February 2, 1896 – June 18, 1980) was a Polish mathematician and logician. He was one of the leading representatives of the Warsaw School of Mathematics. (Sumber: Wikipedia)



G1

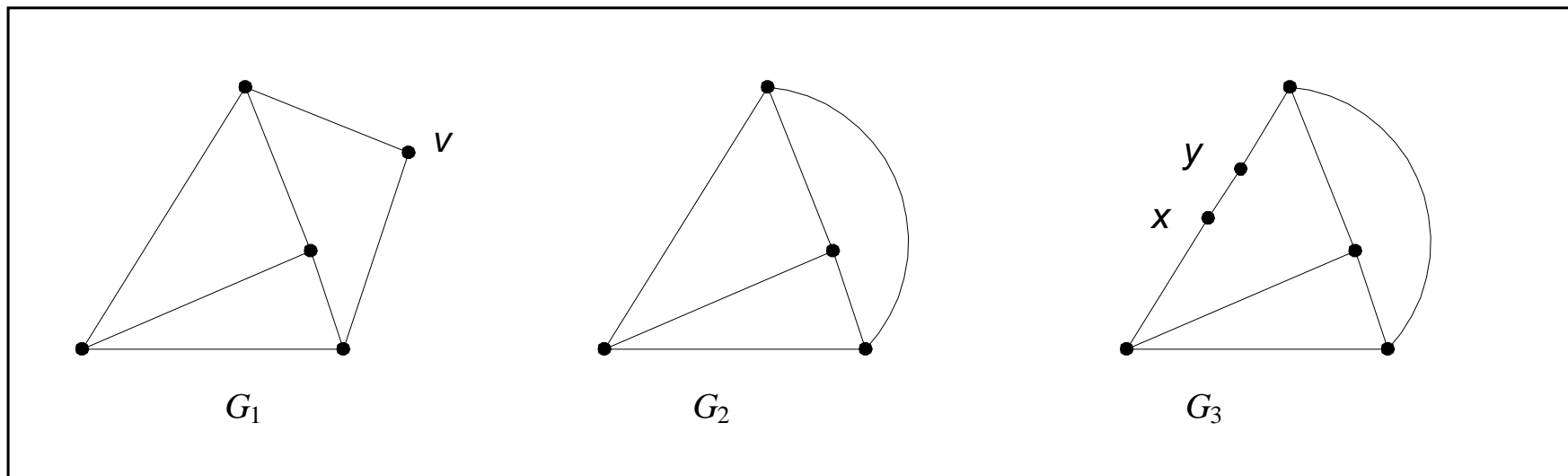


G2

Sifat graf Kuratowski adalah:

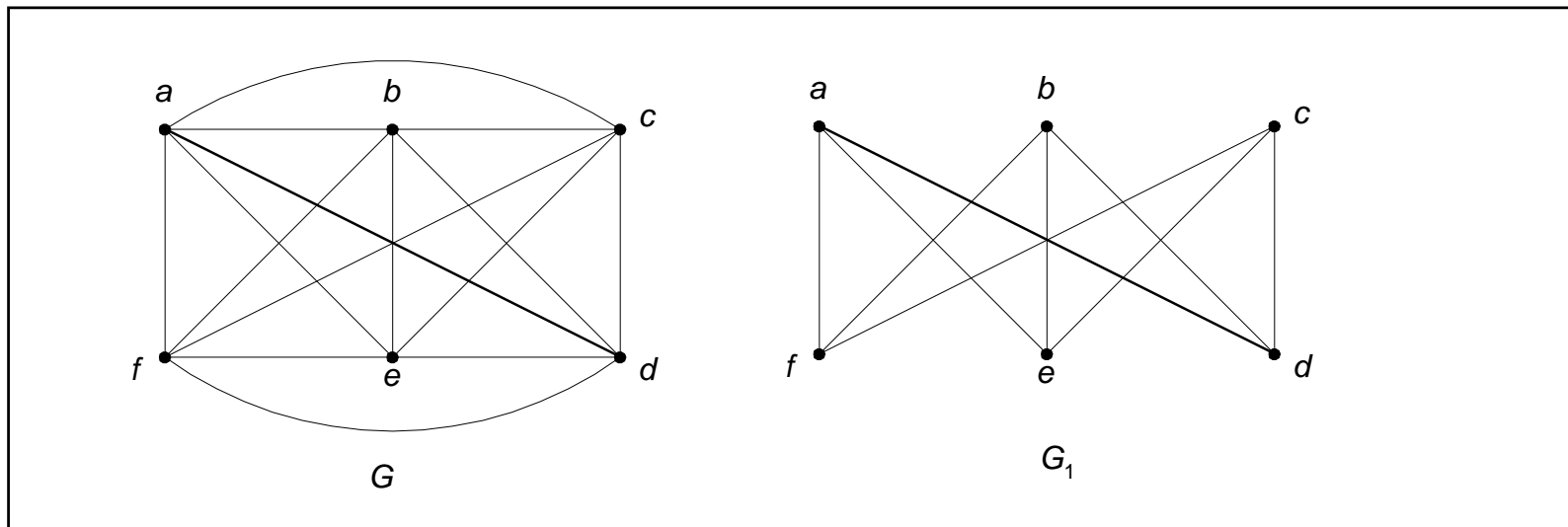
1. Kedua graf Kuratowski adalah graf teratur.
2. Kedua graf Kuratowski adalah graf tidak-planar
3. Penghapusan sisi atau simpul dari graf Kuratowski menyebabkannya menjadi graf planar.
4. Graf Kuratowski pertama adalah graf tidak-planar dengan jumlah simpul minimum, dan graf Kuratowski kedua adalah graf tidak-planar dengan jumlah sisi minimum.

**TEOREMA Kuratowski.** Graf  $G$  bersifat planar jika dan hanya jika ia tidak mengandung upagraf yang isomorfik dengan salah satu graf Kuratowski atau homeomorfik (*homeomorphic*) dengan salah satu dari keduanya.



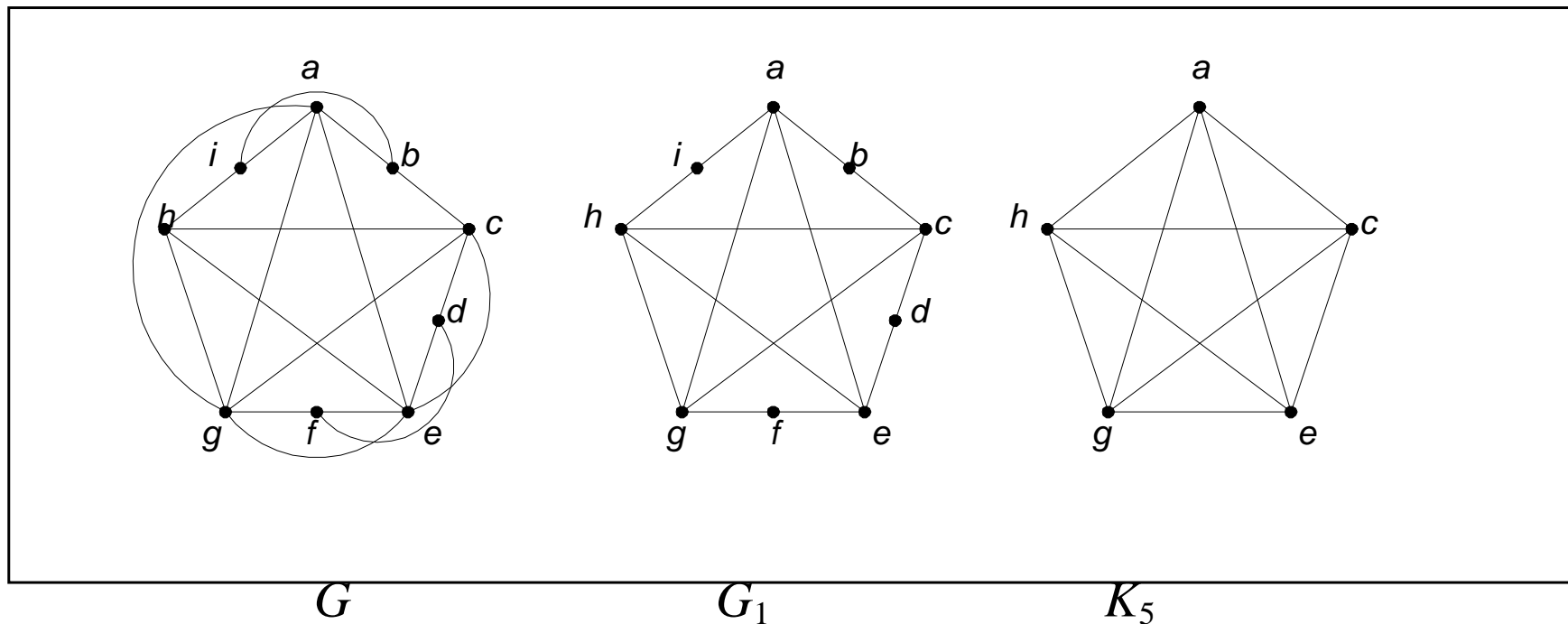
**Gambar** Tiga buah graf yang homemorfik satu sama lain.

**Contoh:** Kita gunakan Teorema Kuratowski untuk memeriksa keplanaran graf. Graf  $G$  di bawah ini bukan graf planar karena ia mengandung upagraf ( $G_1$ ) yang sama dengan  $K_{3,3}$ .



Graf  $G$  tidak planar karena ia mengandung upagraf yang sama dengan  $K_{3,3}$ .

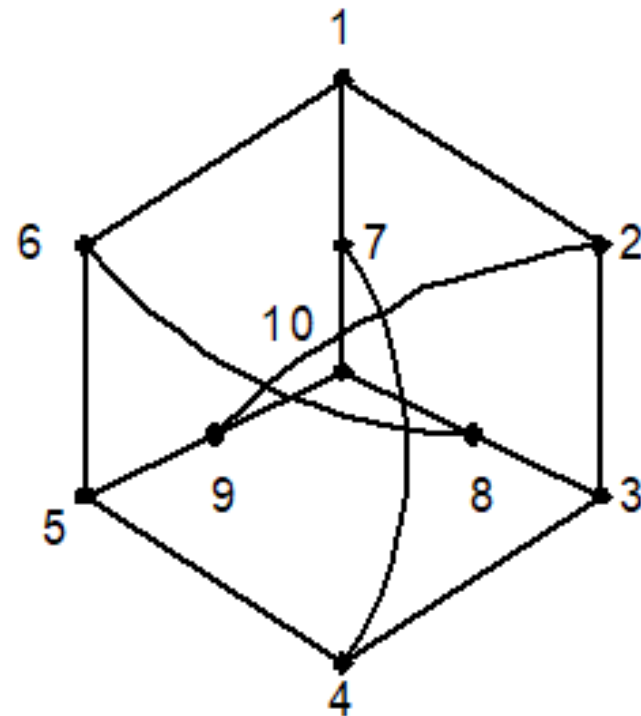
Graf  $G$  tidak planar karena ia mengandung upagraf ( $G_1$ ) yang homeomorfik dengan  $K_5$  (dengan membuang simpul-simpul yang berderajat 2 dari  $G_1$ , diperoleh  $K_5$ ).



**Gambar** Graf  $G$ , upagraf  $G_1$  dari  $G$  yang homeomorfik dengan  $K_5$ .

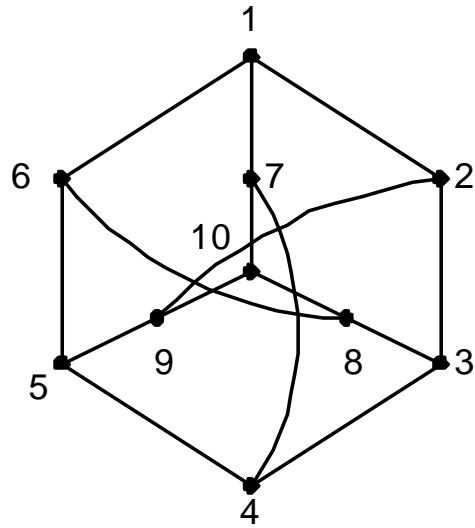
# Latihan

- Perhatikan dengan teorema Kuratowski bahwa graf Petersen tidak planar.

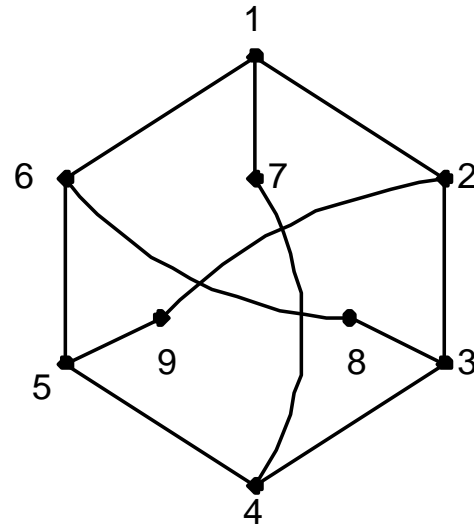


Graf Petersen,  $G$

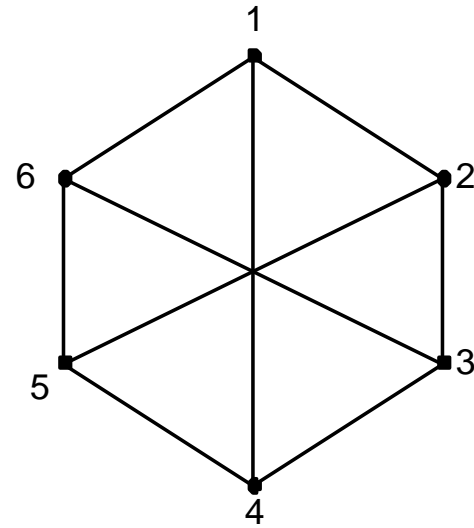
Jawaban:



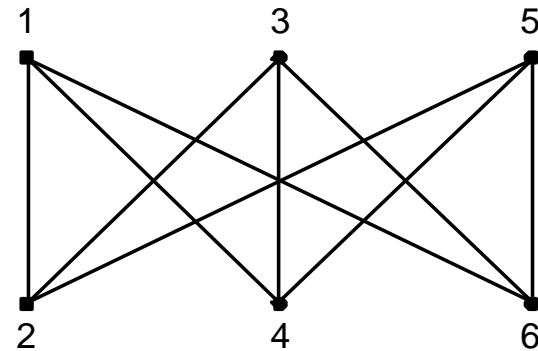
(a) Graf Petersen,  $G$



(b)  $G_1$



(c)  $G_2$



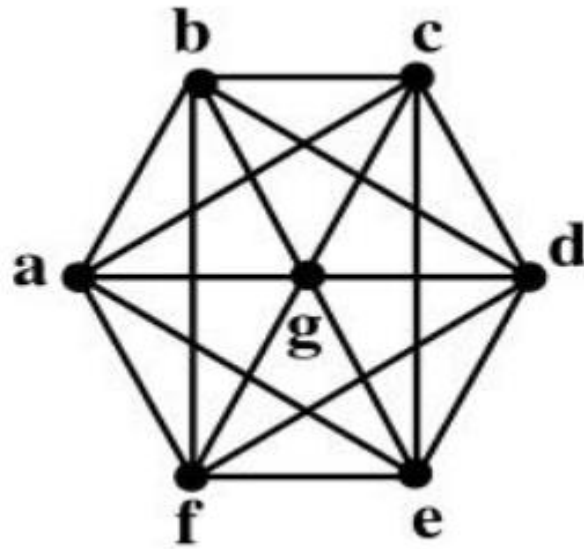
(d)  $K_{3,3}$

- Gambar** (a) Graf Petersen  
 (b)  $G_1$  adalah upagraf dari  $G$   
 (c)  $G_2$  homeomorfik dengan  $G_1$   
 (d)  $G_2$  isomorfik dengan  $K_{3,3}$



# Latihan

Periksalah dengan teorema Kuratowski bahwa graf berikut tidak planar



# Graf Dual (*Dual graph*)

Untuk setiap graf bidang  $G$ , kita dapat membuat graf dual  $G^*$  dengan cara sebagai berikut:

1. Setiap wilayah atau muka  $f$  dinyatakan sebagai sebuah simpul  $v^*$ , termasuk wilayah luar.
2. Tariklah sebuah sisi  $e^*$  dari sebuah simpul  $v_1^*$  ke simpul  $v_2^*$  melewati sisi  $e$  pada graf asal.
3. Jika sisi  $e$  pada salah satu simpulnya berderajat satu, maka sisi  $e^*$  adalah berupa sisi gelang

